

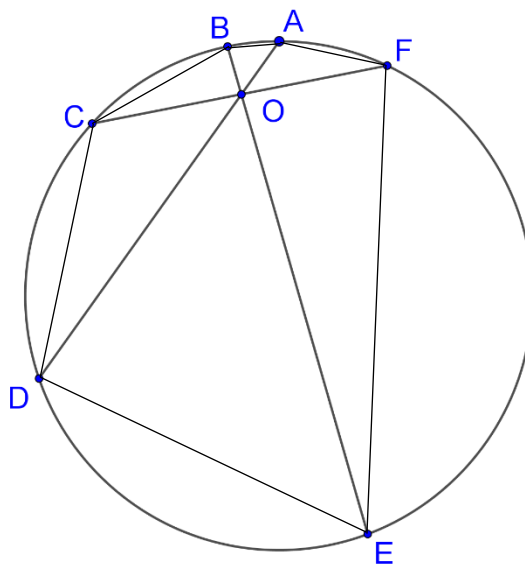
北一女中科學班甄選入學 數學科範例試題

第一部份：選擇題（每題 10 分，共 20 分）

1. 將 1 到 100 用 99 個加號連結，得到 $1+2+3+\dots+100$ ，請問至少要把幾個加號改成減號，才能讓計算結果恰等於 1000？
(A) 22 (B) 23 (C) 44 (D) 45
2. 小綠在園遊會賣飲料，奶茶一杯賣 40 元，紅茶一杯賣 35 元，綠茶一杯賣 30 元，三種飲料共賣出 100 杯，總賣出金額為 3650 元。假設奶茶、紅茶、綠茶分別賣出 a 、 b 、 c 杯，其中 $a \geq 0$ 、 $b \geq 0$ 、 $c \geq 0$ ，則 (a, b, c) 一共有幾組整數解？
(A) 35 (B) 36 (C) 65 (D) 66

第二部份：填充題（每題 10 分，共 30 分）

1. 在直角坐標平面上，已知二次函數 $y = ax^2 + bx + c$ 的圖形分別和 x 軸所交兩點的距離為 4；和直線 $y = 2$ 所交兩點的距離為 8，則此二次函數圖形和直線 $y = 6$ 所交兩點的距離為 _____。
2. 已知圓內接六邊形 $ABCDEF$ 中， \overline{AD} 、 \overline{BE} 、 \overline{CF} 交於一點。若 $\overline{AB} = 1$ 、 $\overline{BC} = 3$ 、 $\overline{CD} = 5$ 、 $\overline{DE} = 7$ 、 $\overline{EF} = 9$ ，則 \overline{FA} 的長度為_____。



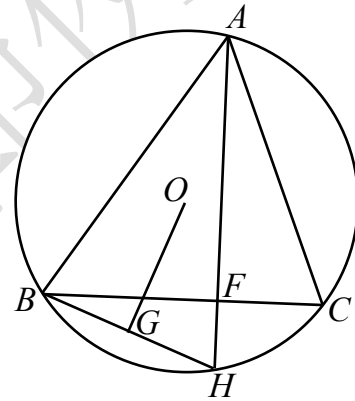
3. 有一組資料：1,1,1,1,1, $\overbrace{a,\dots,a}^{k\text{個}a}$,6,6,6,6，其中 $1 < a < 6$ ，且 a 跟 k 均為正整數。假設這組資料的平均數是 p ，中位數是 q ，眾數是 r ，且 p 、 q 、 r 是三個相異正整數，則 $(k,a) = \underline{\hspace{2cm}}$ 。

(備註：中位數—將資料由小而大排列，如果資料的個數是奇數，則最中間的一個資料值，即為中位數；如果資料的個數是偶數，則最中間的兩個資料值的平均數，即為中位數。
眾數—出現次數最多的資料值。)

第三部份：計算證明題 (每題 15 分，共 30 分)

1. 如下圖，已知 $\triangle ABC$ 外接圓的圓心為 O ，弦 $\overline{AH} \perp \overline{BC}$ 於點 F ，

G 為 \overline{BH} 的中點。試證明： $\overline{AC} = 2\overline{OG}$



2. 在所有正整數中，將只由 2,0,1,9 這四個數字構成的數挑選出來，由小至大排成一個數列：1,2,9,10,11,12,19,20,...
- (1) 這個數列的第 64 項為何？
 - (2) 在這個數列中，2019 是第幾項？
 - (3) 這個數列的第 1000 項為何？

第四部份：思考題，請閱讀下列文章：(共 20 分)

在國中我們學過的數有： 3 、 $\frac{3}{7}$ 、 $\sqrt{2}$...，這些數如果可寫成分數，我們稱為**有理數**，例如： $3 = \frac{3}{1}$ 、 $\frac{3}{7}$ 皆是有理數。但 $\sqrt{2}$ 無法寫成分數形式，是個「**不是有理數的數**」，我們稱為**無理數**。那麼「不是有理數的數」(即無理數)是什麼呢？

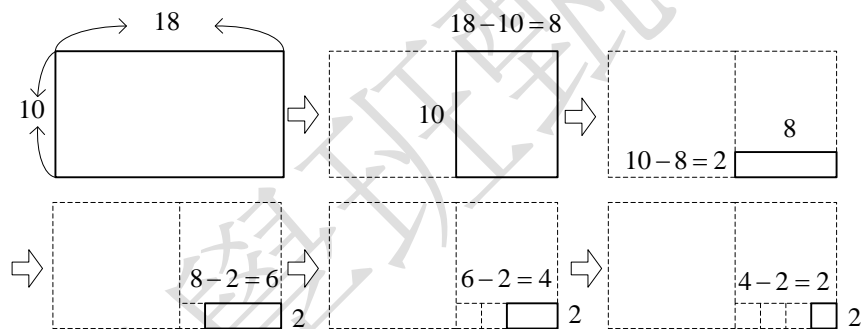
不妨從有理數 (rational number) 的語源來看：ration 源自於拉丁語的 *logos* (英文是 ratio, 意思為比), 原意是「可表達的」。換言之, 有理數是「**可表達的數**」, 即可寫成兩個整數之比。進一步, 我們可以化成最簡分數的形式 $\frac{q}{p}$, 其中 p, q 為互質的整數, p 不為 0。例

如： $\frac{10}{18} = \frac{2 \times 5}{2 \times 9} = \frac{5}{9}$ 。如果用兩個線段長來說，表示 10 和 18 可以找到基本單位長 2 量盡它們，我們稱之為「**可公度量的**」(commensurable)，又例如 $\frac{4}{5}$ ，4 和 5 可以找到基本單位長 1

量盡它們，所以也是可公度量的。反之，如果無法表示成分數形式，代表兩個線段長無法找到基本單位長同時量盡，就稱為「**不可公度量的**」(incommensurable)。

可公度量的說明：

給定長 18 cm，寬 10 cm 的長方形紙片一張，今剪去一個最大正方形後，將剩下的長方形紙片再剪去一個最大正方形，如此繼續做，直到剩下的的紙片是正方形才停止，則最後剩下的正方形邊長為 2cm，如下圖。所以就將 18, 10 用 2 當基本單位來度量，即 $18 = 9 \times 2$ ； $10 = 5 \times 2$ ：



用現在的話語來說，也就是 18 和 10 這兩個數，可以 2 當基本單位長來度量，所以 $\frac{18}{10}$ 是有理數。

歐幾里得《幾何原本》第十卷命題 2：

如果從兩不等量的大量中連續減去小量，直到餘量小於小量，再從小量中連續減去餘量直到小於餘量，如此一直作下去，當所餘的量永遠不能量盡它前面的量時，則兩量不可公度。

根據上面的說明，我們要來推導 $\sqrt{2}$ 與 1 是不可公度量的，藉以說明 $\sqrt{2}$ 是無理數。我將利用下面的圖形說明！

下圖(一)中 $ABCD$ 為一正方形，欲利用此圖說明 \overline{AC} 、 \overline{AD} 不可公度，即將 \overline{AC} 、 \overline{AD} 不斷的互減，並說明兩個線段長無法找到基本單位長同時量盡，就可稱 \overline{AC} 、 \overline{AD} 為「不可公度量的」。

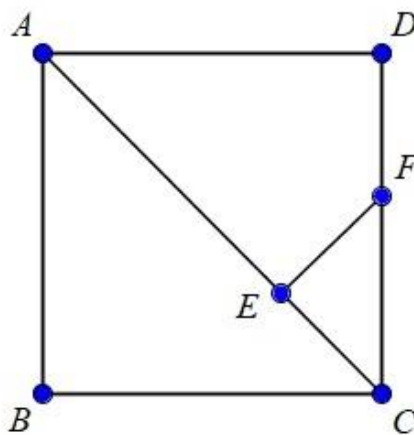
試回答下列問題：

1-1.

如圖(一)，在 \overline{AC} 中量測一線段長 $\overline{AE} = \overline{AD}$ ，

過 E 做 \overline{AC} 的垂直線交 \overline{CD} 於 F 點，

試證明： $\overline{DF} = \overline{EC}$ 。(5分)



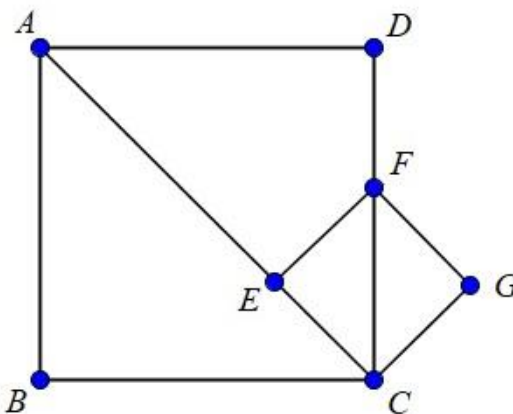
圖(一)

1-2.

如圖(二)，承 1-1，做一正方形 $CEFG$ ，如果

存在一基本單位長 d ，可量盡 \overline{AC} 、 \overline{AD} ，

試說明 d 也可量盡 \overline{CF} 、 \overline{CE} 。(5分)



圖(二)

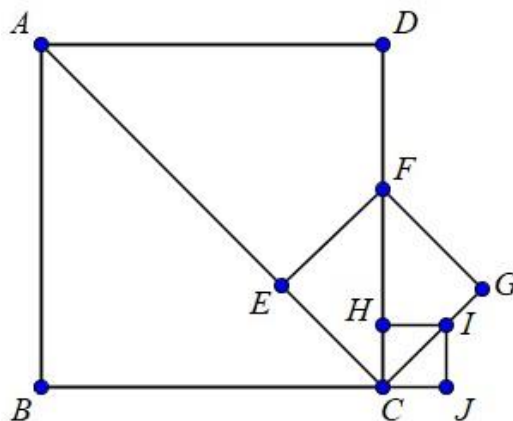
1-3.

如圖(三)，令 $\overline{AD} = 1$ ，承 1-2 概念，試說明

下圖中的小正方形 $HIJC$ 如何做出？並依此

概念推廣，證明 $\sqrt{2}$ 與 1 是不可公度量。

(10分)



圖(三)